

78

13

21

54

16

35



58

41

Peste
80 de

Jocuri

cu numere

15



5


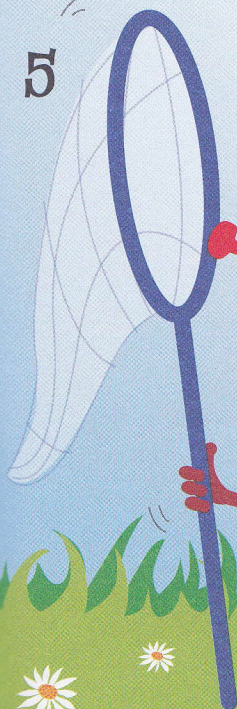
43



31

20

37




Peștele și momeala

Acești pești vor înghiți doar cifrele-momeală care reprezintă 75% din numerele înscrise pe corpul lor. Desenează un cerc în jurul peștelui care nu o să fie prins în cârlig.




Traversarea podului

Doar scândurile cu calculele corecte vor suporta greutatea ta. Marchează cu X scândurile pe care ar trebui să le eviți pentru a putea să traversezi podul în siguranță.



Enigma piramidei

De pe această piramidă lipsesc anumite numere. Scrie numerele lipsă, știind că fiecare număr este suma celor două numere care se află sub el.



Cuferele cu comori

5

Un cufăr conține o comoară, dacă numărul înscris pe el este:


- ... un multiplu de șapte;
- ... un număr la pătrat;
- ... un număr prim.

Derutează pirații, desenând un X pe cuferele în care nu există nicio comoară.



Petale amestecate

Completează numerele lipsă, astfel încât ambele porțiuni ale fiecărei petale, adunate, să aibă ca sumă cifra din mijlocul florii.



Populația de pinguini

7

Jumătate dintre acești pinguini depun câte un ou și din fiecare ou iese un pui. Când acești pui vor crește, două treimi din ei vor depune propriul ou și din fiecare ou va ieși câte un pui. Câți pinguini vor fi în total?



Răspuns: